

Sælopgaver

Du kan bruge disse opgaver til at få oplysninger og viden om de to sælarter, der findes i Danmark – spættet sæl og gråsæl.
Kan laves når du besøger Fiskeri- og Søfartsmuseets sælarium


Udseende (spættet sæl)

Kig godt på sælerne i sælariet.


Tegn de stiplede linjer op og tegn **ører, næsebor, øjenbryn, knurhår og mund.**



Tegn en forluffe:




Tegn en bagluffe:



Tegn halen:



Tegn en bagluffe med spredte tæer:

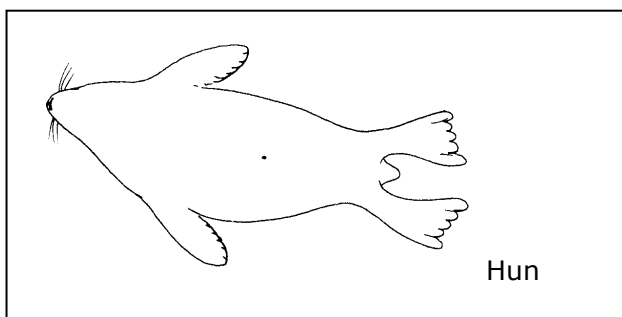
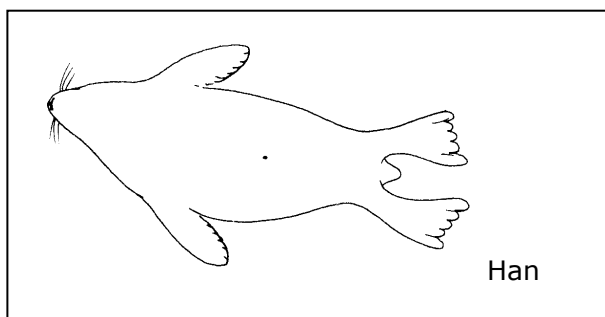


Har sælerne pels - eller er de hårløse ligesom hvalerne?

En søløve kan trække baglufferne ind under kroppen, når de bevæger sig på land. Hvad gør sælerne, når de bevæger sig på land?

En søløve har et lille ydre øre. Kan du få øje på sælernes ører? Hvordan ser de ud?

Han- og hunsæler kan man nemt kende fra hinanden ved at kigge på sælernes bug (maven). Udover navlen har hannen en penisåbning og hunnen har to dievorter. Kig på sælerne og tegn penisåbning eller dievorter på tegningerne.



Hvordan kan du se forskel på arterne?

Sælart:		
Specielt ved hovedet:		
Specielt ved pelsen:		
Andre forskelle:		

Hvor mange sæler er der i bassinet på besøgsdagen – og hvilke arter?

Antal:	Arter:
--------	--------

Sælerne i sælariet får op til 4 kg foder hver dag.
Derfor er de ofte store og tykke.
Hvordan tror du, at sælerne holder varmen i vandet?



Hvad sker der med en sæl i Vadehavet, hvis den får for lidt at æde?



Hvad tror du, den største af sælerne i sælariet vejer?

Kg

Svømning

En søløve bruger især forlufferne, når den svømmer.
Hvad bruger sælerne, når de svømmer ligeud og hvordan ændrer sælen svømmeretning?

Nævn mindst **to** årsager til, at sælen kan svømme hurtigere end et menneske.

Tegn en pil fra sælens øje i den retning, hvor den har sit bedste "udsyn".




I hvilken af de 4 vinkler har sælen det bedste "udsyn"? Sæt X.

1. Opad/bagud	
2. Nedad/bagud	
3. Fremad/nedad	
4. Fremad/opad	

Hvordan tror du det vil være bedst for sælen at svømme, hvis den vil kigge efter fisk på havbunden?

Sæler og hvaler svømmer på forskellige måder.



Sæt X	Ved hjælp af baglemmerne	Ved hjælp af halen
Sælen svømmer...		
Hvalen svømmer...		

Der er også forskel på hvordan sæler og hvaler bevæger kroppen.

Sæt X	... fra side til side	...op og ned
Hvalen bevæger kroppen...		
Sælen bevæger kroppen...		

Fodring

Se en fodring af sælerne kl. 11.00 eller kl. 14.30.

Hvilke fisk bliver sælerne fodret med?

Hvordan æder sælerne?
Sæt X

Sælerne sluger fisken hel, uden at tygge fisken	
Fisken tygger fisken, og sluger den i små bidder	