


# Planterne på din vej

Kast en ring tilfældigt fire gange i hvert af disse områder/biotoper: Vade, ved opskyldslinje, marsk, dige. (I kan også aftale andre områder)


## Opgave:

1. Ved hvert kast tæller I **antallet af forskellige planter**
2. Ved hvert kast tæller I **antallet af planter i alt**, som findes inde i ringen.
3. Ved et af kastene i hver biotop skal I grave et meget lille 10cm dybt hul inde i ringen. Herfra tager I en jordprøve og lave **en pH-måling**.
4. Skriv alle 3 resultater i ringene herunder.


### Vade




### Ved opskyldslinje



### Marsk



### Dige



## Jordprøve:

Gnid jordprøven i hænderne og beskriv følgende:

	pH-værdi	Overvejende sand	overvejende ler	Blandet sand og ler
vade				
o				
Hede				
Eng/mark				

Kan I finde en sammenhæng mellem jordbund, pH-værdi og antal forskellige planter?

---

Materialer: "Raunkiærcirkel" , ske, bæger, vand, skrivegrej.