

Se på historiske kort over Vadehavet

Kig godt på de 4 kort over Vadehavet. Kortene viser Vadehavet på forskellige tidspunkter i historien.

- Kort 1 viser hvordan vi tror Vadehavet så ud i Vikingetiden
- Kort 2 viser Vadehavet lige efter år 1634
- Kort 3 viser Vadehavet omkring år 1950
- Kort 4 viser Vadehavet som det ser ud i dag

På billederne kan du se hvordan de forskellige typer af landskaber ser ud.

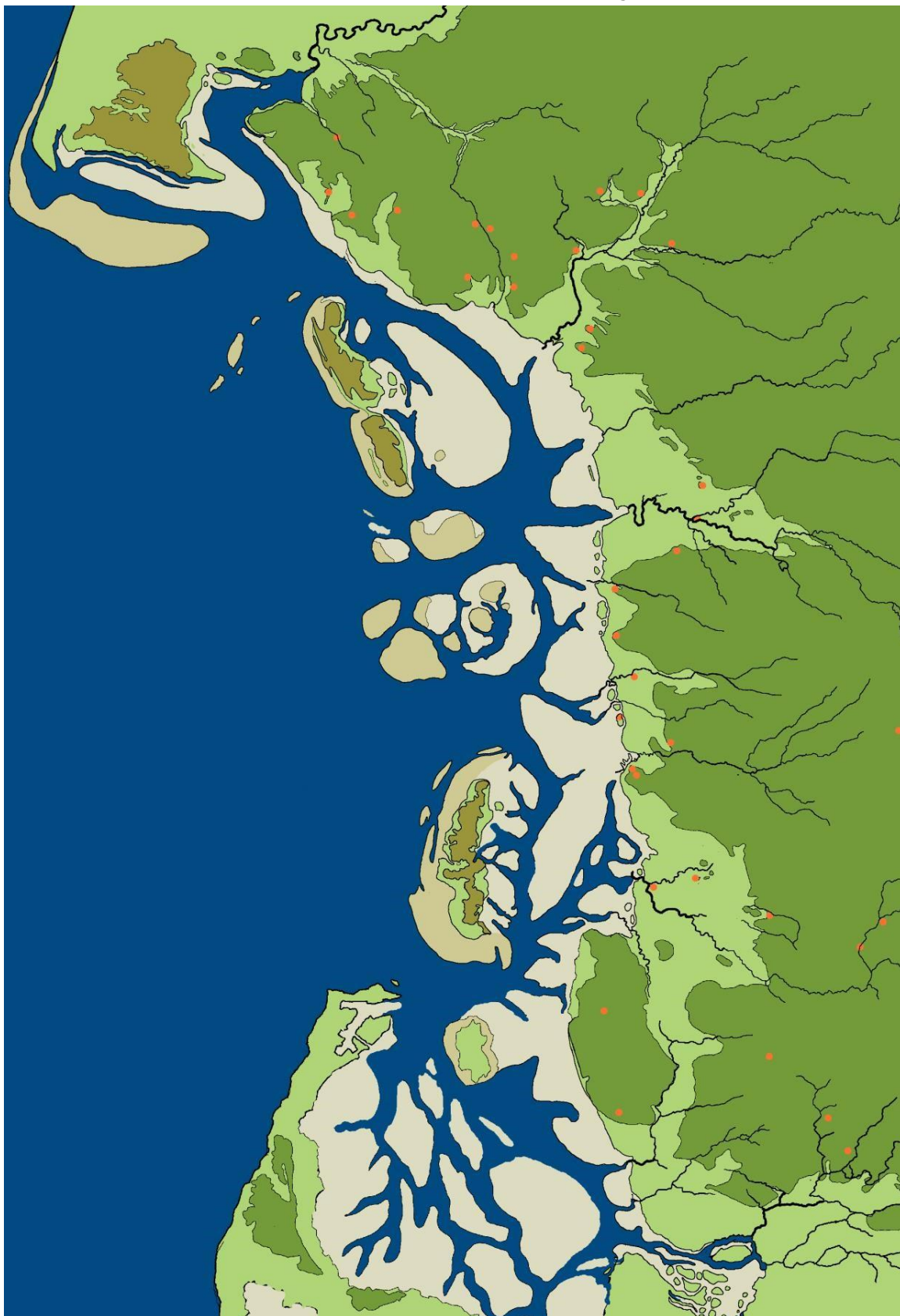
Du kan se: Gesten, marsken, diget, vaden, klit-øer og højsande.

Opgaver:

1. Brug farveblyanter til at give de forskellige landskabsområder, bestemte farver. Mal fx marsken lysegrøn, vaderne gule osv. På den måde lærer du hurtigt de forskellige landskaber i Vadehavet at kende, og du kan hurtigt se på dit kort hvor grænserne mellem de forskellige landskaber går.
2. Kig på øerne i Vadehavet og beskriv hvordan de har forandret sig? (Er de blevet mindre/større, er der opstået nye? Osv.)
3. Hvilke byer i nærheden af dit hjem eksisterede allerede som landsby i Vikingetiden?
4. Hvilke eksisterede i år 1634?
5. Er der nogen byer, som du kender fra i dag, der ikke eksisterede i 1634?

Kort 1 - Vikingetiden

Kort 1 viser hvordan vi tror Vadehavet så ud i Vikingetiden.

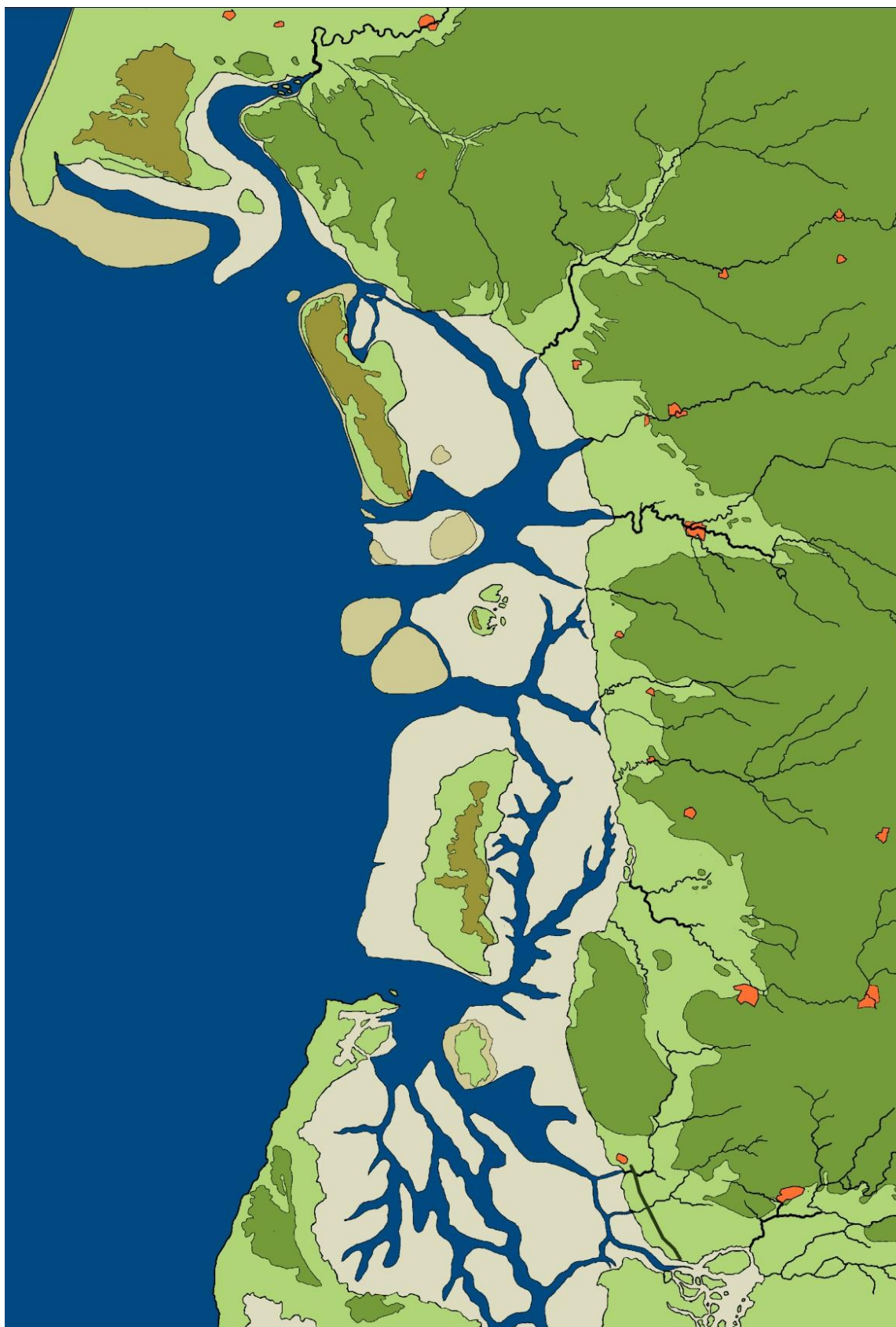


(På dette kort fra ca. år 1048 er alle fund, både bopladser og enkeltfund, sat på som registrering/beboelse.

Der skelnes ikke mellem grave, enkeltfund, bopladser eller løsfund.)

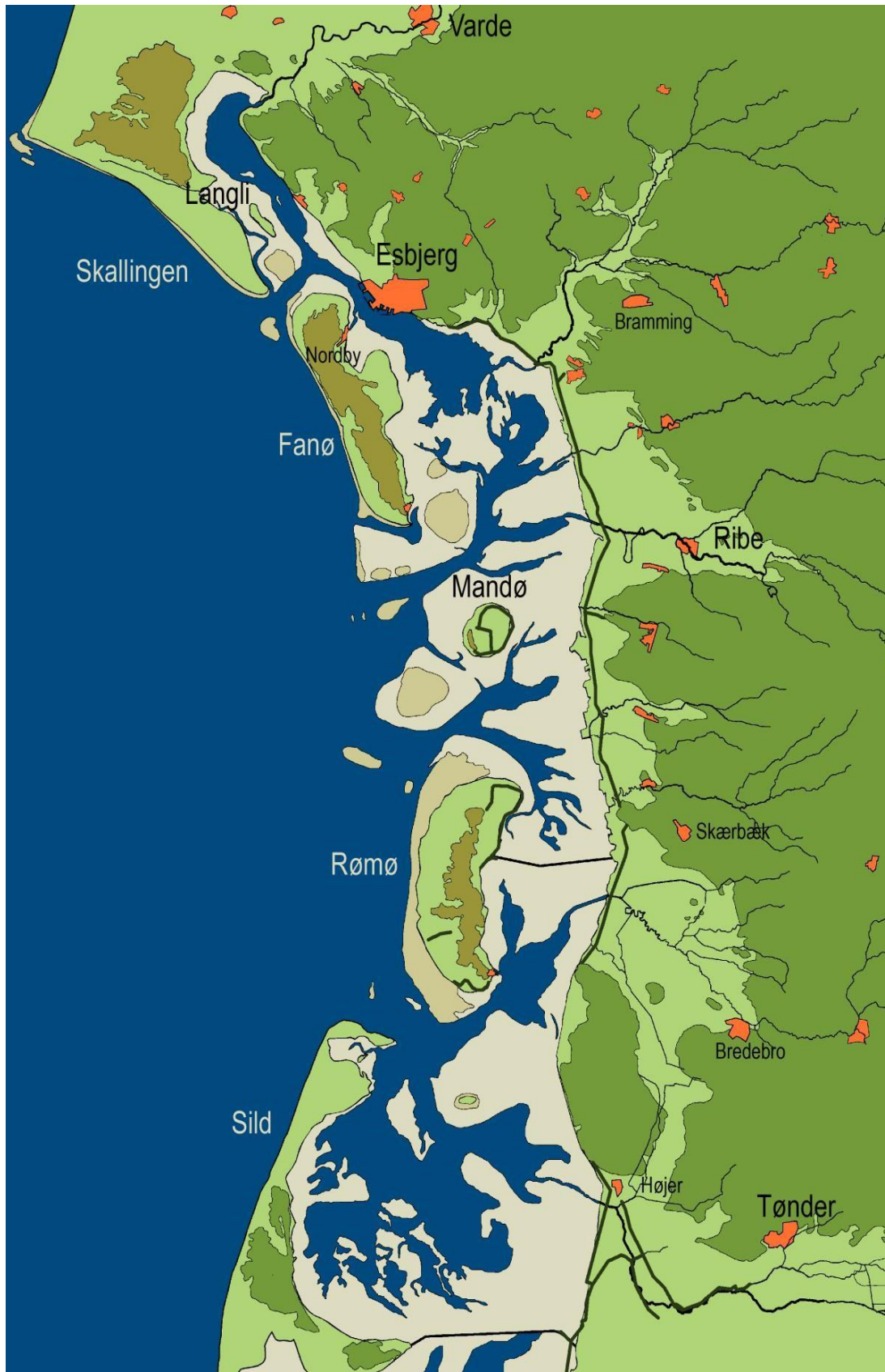
Kort 2. .1648

Kort 2 viser Vadehavet lige efter år 1634



Kort 3 - 1950

Kort 3 viser Vadehavet omkring år 1957



Kort 4 - idag

Kort 4 viser Vadehavet som det ser ud i dag.

